

17. Шта означава црвено свјетло на семафору за пјешаке?

- а) да пјешаци морају прећи улицу нормалним ходом
- б) да пјешаци морају сачекати јер је забрањен прелаз
- в) да пјешаци могу прећи улицу али брзо трчећи

32. Пјешак који гура бицикл мора се кретати:

а) уз лијеву ивицу коловоза у смјеру кретања

б) уз десну ивицу коловоза у смјеру кретања

36. Како се мора понашати пјешак који је удаљен од обиљеженог пјешачког прелаза 80 метара:

- а) смије пут прећи изван обиљеженог пјешачког прелаза
- б) мора пут прећи преко обиљеженог пјешачког прелаза

38. Да ли пјешаци смију прелазити путем преко жељезничке пруге у истом нивоу, ако се спуштају или су спуштени браници или полубраници:

а) да, брзим ходом

б) не, дужни су се зауставити

42. На путу који има обиљежене пјешачке прелазе или посебно изграђене прелазе, односно пролазе за пјешаке при прелажењу пута пјешак је дужан да се креће тим прелазима, односно пролазима ако они нису од њега удаљени више од:

а) 80 метара

б) 90 метара

в) 100 метара

47. Аутобус се зауставио на аутобуском стајалишту. Ученици излазе из њега и намјеравају да пријеђу преко коловоза. Како ће то безбједно учинити?

- а) сачекаће да аутобус оде и тек тада ће пријећи коловоз
- б) пријећи ће коловоз трчећи иза зустављеног аутобуса
- в) пријећи ће коловоз испред заустављеног аутобуса

48. На обиљеженом пјешачком прелазу на којем саобраћај није регулисан свјетлима семафора ни знаковима које даје полицајац, прије ступања на пјешачки прелаз пјешак:

- а) није дужан обратити пажњу на удаљеност и брзину возила која му се приближавају
- б) је дужан обратити пажњу на удаљеност и брзину возила која му се приближавају

49. Кад се пјешак креће коловозом на јавном путу ван насеља, ноћу и дању у условима смањене видљивости мора:

- а) носити заштитну кацигу
- б) бити освјетљен или означен свјетлоодбојним прслуком

52. Приказани саобраћајни знак обиљежава:

- а) шеталиште
- б) посебно изграђену пјешачку стазу
- в) пјешаци на коловозу



55. Приказани саобраћајни знак означава:

- а) пјешачку стазу
- б) мјесто на путу на коме се налази обиљежен пјешачки прелаз
- в) близину мјеста на ком се налази обиљежен пјешачки прелаз



57. Назив саобраћајног знака је:

- а) пут с првенством пролаза
- б) стаза за пјешаке
- в) забрана саобраћаја за пјешаке



61. Назив саобраћајног знака је:

- а) стаза за пјешаке и бициклисте
- б) забрана саобраћаја за бицикле и пјешаке
- в) раздвојена стаза за пјешаке и бициклисте



68. Назив саобраћајног знака је:

- а) забрана саобраћаја за пјешаке
- б) пјешаци на путу
- в) дјеца на путу



75. Који саобраћајни знак дозвољава кретање пјешацима?

- а) знак обиљежен бројем 1
- б) знак обиљежен бројем 2
- в) знак обиљежен бројем 3



1



2



3

77. Који саобраћајни знак има значење “ Стаза за пјешаке и бициклисте”:

- а) знак обиљежен бројем 1
- б) знак обиљежен бројем 2
- в) знак обиљежен бројем 3



1

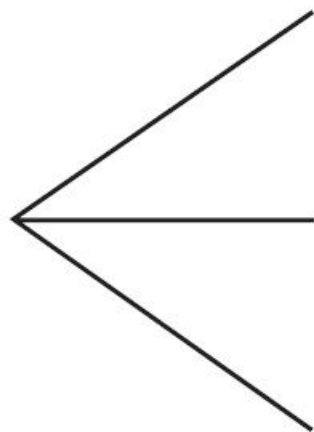



2



3

84. Који симбол (а, б или в) припада облику и боји приказаног саобраћајног знака да би имао значење: «Забрањен саобраћаја за пјешаке»?



— а

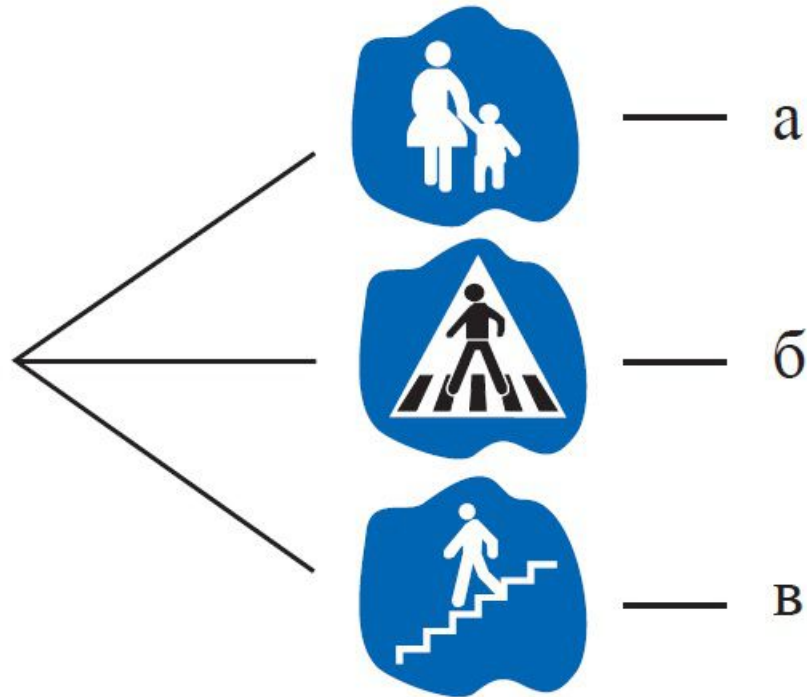



— б



— в

85. Који симбол (а, б или в) припада облику и боји приказаног саобраћајног знака да би имао значење: «Пјешачка стаза»?



— а

— б

— в

94. Приказани свјетлосни знак на семафору значи:

- a) забрањен пролаз за пјешаке
- б) дозвољен пролаз за пјешаке



118. У ситуацији на слици правилно се крећу:

а) пјешаци обиљежени бројем 1

б) пјешаци обиљежени бројем 2



126. У ситуацији на слици првенство проласка има:

а) возач бицикла

б) пјешаци



127. У ситуацији на слици предност проласка има:

а) путнички аутомобил

б) пјешак

